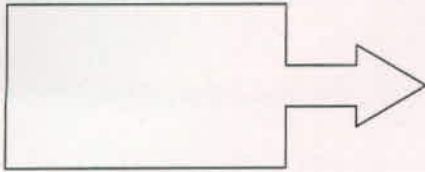


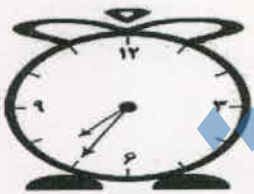
۱۲) با استفاده از خط کش ، خطی بکش که شکل را دو نیمه ی مثل هم کند و هر نیمه را یک رنگ کن



۱۳) یک اتوبوس ۱۳ مسافر داشت.

در ایستگاه ۳ نفر پیاده شدند و ۵ نفر سوار شدند.

اتوبوس چند مسافر دارد؟



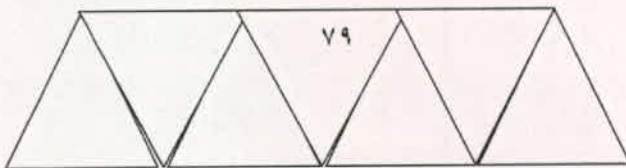
۱۴) ساعت از گذشته است.

۱۵) جاهای خالی را با عدد مناسب کامل کن.

$$۱۰ + ۵ + ۳ = \square$$

$$۲۰ + ۲۰ + ۱۰ - ۵ = \square$$

۱۶) قبل و بعد عدد نوشته شده را بنویس.



۱۷) در جاهای خالی عدد مناسب بنویس.

۳		۱	۶	۵	۲
۵	۶	۲	۳	۴	
۶		۳	۴	۱	۵
	۱	۵	۲	۶	۳
۲	۵		۱		۴
۱		۴		۲	۶